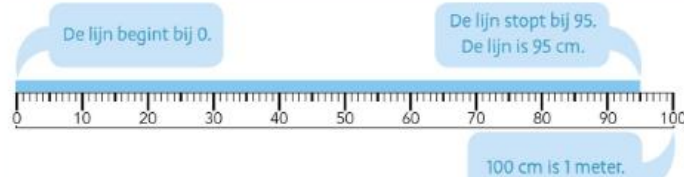


**doel 5**

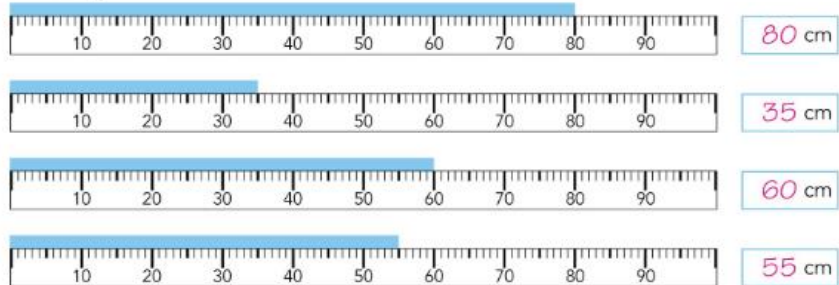
► Je leert meten met een meetlint van 1 meter.

**start** **Hoe lang? Meet met je liniaal.**



**hulp**

**1** **Hoe lang?**



**2** **Zet een streep op de liniaal.**

Schrijf de letter erbij.

- a bij 15 cm
- b bij 30 cm
- c bij 45 cm
- d bij 62 cm
- e bij 71 cm
- f bij 84 cm
- g bij 92 cm



**hoe ging het?**

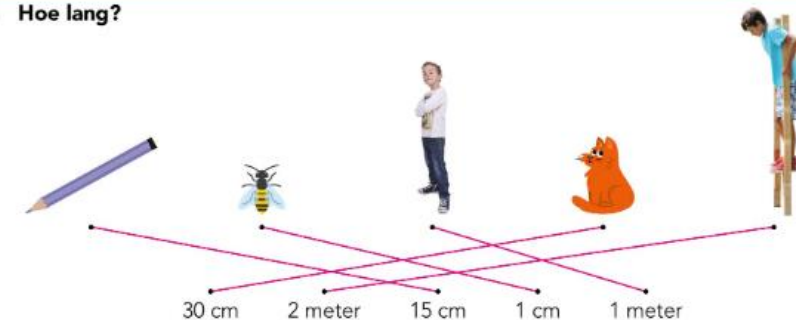


**3** **Meet je stoel en tafel. bijvoorbeeld:**

Gebruik een meetlint.

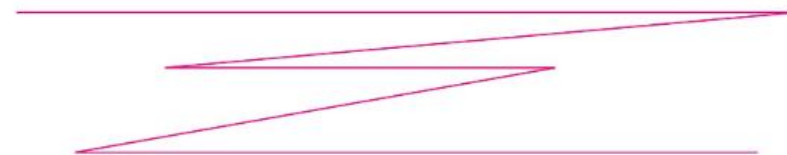


**4** **Hoe lang?**



**5** **Teken een lijn. bijvoorbeeld:**

De hele lijn is 61 cm lang. Verdeel de lijn in 5 stukken.



**kijk terug**

**ga naar taak 12 op bladzijde 24** ➔

**Bedenk 4 verschillende meetinstrumenten. Wat kun je er goed mee meten?**

- Met een liniaal kun je een tekening meten. *bijvoorbeeld:*
- Met een meetlint kun je de prullenbak meten.
- Met een rolmaat kun je de klas meten.
- Met een duimstok kun je het raam meten.